

高校部 大学受験対策 夏期講習

政治経済・現代社会

～センター・基礎レベル～

政治経済・現代社会（基礎）について

まず、この授業は名前の通り「基礎」内容を扱います。中学課程の公民と重複することと
ころが多いと思います。レベルはセンター試験75%と想定しておいて下さい。この授業のあと
スタンダードレベルの内容を学習されることをお勧めします。

☆講義について

- ①主に宿題をやるためのノートを用意すること。授業中配布したプリントはノートに貼り付けることをお勧めする。ファイルに閉じても構わない。但し、どこにあるのか分からないということは絶対に避けること。
- ②授業中に確認問題を一定時間で行い、回収する。A type がそれまでの範囲からの抜き打ち問題（基本）で、B type は前回の授業内容を中心として出題される。両タイプとも授業中に行うとは限らない。一定の点に足りない者には特別課題（Penalty）が課される。
- ③配布した問題の中で、授業中では、基本問題や補充問題（プリントにて配布する）を主に取り上げる。応用問題は主に宿題となる。
- ④各回の宿題は、一週間の中でうまく調節してやること。宿題忘れは論外。また宿題は、指定された解答用紙及び、ノートにおいて行い、指示がない限り、決してこのテキストに書き込んで提出することのないように。課題を忘れた者は、居残りをして必ず終わらして帰ること。
- ⑤解説・解答を参照すれば済む話については、授業中必ずしも説明したりはしない。授業中・授業外に解かせる全ての問題に対して解答を配布する。自宅などで自己採点し復習すること。
- ⑥ただ、以上はあくまでも予定であるので、その都度講師の指示に従うこと。

☆略語について(授業で使用する記号は以下の通りである。)

eg. …例 <英語の example の発音から>
cf. …参考・参照 <ラテン語の confer>
ℓ. …例題 <ローマ字読みの reidai の “r” を “ℓ” にしただけ>
kℓ. …基本例題 <例題 “ℓ” にローマ字読み kihon の “k” をつけただけ>
Ex. …練習問題 <英語の exercise>
X. …演習問題 <英語の exercise の “x”>

☆復習ノートについて

授業 or 宿題でやった問題のうち、間違えた問題をノート一冊決めて丁寧^ニに解き直す。間違えた問題を復習もせず放置するのは愚かしいことの極みである。また、一度答え合わせしてちょっと復習したぐらいで抑えられることなどほとんどないのだから、このノートを作成することで、復習が確固たるものとして自分自身に定着されることを願う。また、他の必須とさていない授業でも、向上心が少しでもあるならば、自主的に作成すべきであろう。

「政治経済・現代社会(基礎)」の授業方針について

担当 河野愛一郎

1 地歴・公民の入試実態

a) 国公立入試

<センター試験>

…科目数;5教科7科目など

【特徴】

- ①基本知識を問う問題／但し、“ヨコ”の見方ができるかどうか重要(本年度)
- ②全てマーク
- ③歴史や政治経済に関していえば、時間余裕

<二次試験>

…英数国地歴による2教科から4教科5科目まで。

【特徴】

- ①知識自体は基本的
 - ②記述式(難関大では論述)
- つまり、答え方が難しい。

【対策】

…科目数が多いので、意外と正答率は高くない。論述はそれなりの対策をすれば、それほど難しくない。

b) 私立入試

…基本的に英・国・社(・数・小論文)などによる3科目。英語の配点が高く、それに比して地歴・公民の社会は配点が低い。

【特徴】

- ①マニアック
 - ②単一式
- 覚えているか覚えていないかに依存するところ大

【対策】

・・・難問(悪問)は、合格者でもあまり出来ていない。但し、社会という科目の性質上、それなりに準備してくる受験生たちは、皆、ある程度は出来る。すなわち、差がつかない＝世界史で合格が決まることはあまりない。よって、英数国(差が付きやすい科目)には存分に時間を投資して実力を伸ばすべきだが、地歴・公民に関しては効率的な勉強法(時間をかけすぎず、合格する水準を着実に押える。

② 授業方針

①を踏まえたうえで私の授業では、マニアック極まりないものを網羅するようなことはしない。

【理由】

- ① きりがない
- ② 覚えられない
- ③ そうでなくても十分受かる
- ④ 忘れてしまう可能性が大。基礎的な部分が抜けていく恐れがある。

効率的な勉強法ができるよう入試における頻出事項を授業で取り上げる。すなわち、現実の入試を最大の着眼点とした授業を行う。その内容をまとめたものが、私のテキストであり、それを毎週、復習することによって、確実に習得して欲しい。また、忘れそうな内容は、模試の勉強の一環で再度、復習することを強く薦める。

③ その他

【強く薦めるもの】

- 山川出版社の用語集
- 浜島書店の参考書
- 山川出版のセンター対策問題集(センター対策)

☆入試問題研究(政治経済)

①国公立入試問題より

a)センター試験

第1問 次の文章を読み、下の問い(問1～10)に答えよ。(配点 24)

近年、国家による個人の保護に加え、各国、国際機関、NGO(非政府組織)などが協力して、すべての人の自由と可能性を実現することをめざす①人間の安全保障という考え方が提唱されている。その背景には、民族・宗教紛争の多発や大規模な自然災害など、人間の生存や尊厳への脅威に対する強い危機感がある。また②普遍的な人権基準の設定により人権保障の国際化が進み、③情報技術の革新による情報や価値の共有が可能になったことも、その背景となっている。

経済活動のグローバル化は、このような国際社会の変容を促進する要因の一つである。冷戦構造の終焉は④世界経済の一体化に拍車をかけた。とりわけ、⑤アジア地域の経済発展は顕著で、国境を越えた投資が広範に行われている。

ところが、グローバルゼーションには、それに対抗する二つの潮流が存在する。第一の潮流は、民族や国家に固有の価値観を維持しようとする立場からの抵抗で、⑥発展途上地域に多く見られる。第二の潮流は、地域的経済統合を強化し、⑦自由貿易の利益を近隣諸国家間で実現しようとする傾向である。このように、現在では、グローバルゼーション、ナショナリズム、リージョナリズムの三者が複雑に絡まりつつ、重層的に進行しているのが特徴である。この地球規模でのダイナミズムが生み出す大規模な人の移動に伴い、⑧外国人労働者の人権保障の問題などが拡大しており、国際的な取組みが求められている。

脅威にさらされている個人に直接役立つような支援活動を行うという、人間の安全保障の考え方は、国家の安全保障概念を補完するものであるが、伝統的な⑨内政不干渉原則からの批判も予想される。その一方で、国際法上の最も重大な犯罪について、個人の刑事責任を追及する常設の⑩国際刑事裁判所の設立に、国際社会が合意したことは注目される。日本は人間の安全保障の視点を重視した外交をめざしており、人間の保護と安全を確保し、自らの力で生きていけるよう、人々や社会の能力強化に貢献することが、いつそう期待されている。

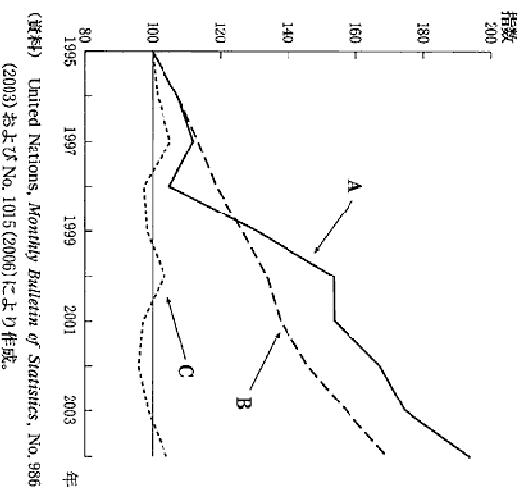
問1 下線部①の観点からは、脅威にさらされている個人一人一人の視点を重視する対外政策が推進される。このような対外政策の例として最も適切なものを、次の①～④のうちから一つ選べ。 1

- ① 国際空港や高速道路などの基盤整備のために、ODA(政府開発援助)を供

問4 下線部①とともに、企業の活動範囲も世界規模で拡大した。企業が外国に進出する理由として適当でないものを、次の①～④のうちから一つ選べ。 4

- ① 進出先の国における法人税率の引上げ
- ② 進出先の市場における販路の拡大
- ③ 進出先における低賃金労働力の利用
- ④ 進出先の政府が提供する経済特区の利用

問5 下線部②に関連して、次の図は、日本、インド、韓国の、1995年を100とする工業生産指数の変化を示したものである。図中のA～Cに当てはまる国名の組合せとして正しいものを、下の①～④のうちから一つ選べ。 5



- ① A 日本 B インド C 韓国

b) 国公立大学2次試験(一橋大学)

Ⅲ 次の文章を読み、以下の問いに答えなさい。

人間活動にともない大気中の温室効果ガスの蓄積が増加し、地球の大気大循環や生態系に不可逆的な影響を与えることが懸念されている。この気候変動問題に対する国際的な対応として、1992年に①()が締結され、1997年には締約国に具体的な温室効果ガス排出削減義務を課した②()が締結された。②において、日本は2008年から2012年の間に1990年比③()%の排出削減の義務が課せられている。しかし、実際には日本の温室効果ガス排出量は増加の一途をたどっている。下表は、1990年および2003年の日本における二酸化炭素排出量とそれに関連した統計を示している。二酸化炭素は主要な温室効果ガスであり、エネルギー供給量、GDP、人口は、それぞれ二酸化炭素排出量の増減に影響を及ぼすと考えられる。

問3 温室効果ガス排出削減に向けこれから求められる政策について、問2の結果をふまえ、表の各統計値との関係を考慮して論じなさい。(300字以内)

②私立入試問題より(早稲田大学政治経済学部)

I 次の文を読んで、下記の問いに答えよ。

小泉純一郎前首相は2001年4月から2006年9月までの在任期間をとおり、1 改革を推し進めた。その経済政策は「A 小さな政府」をめざし、政府の財政 2 を減らして、国民の 3 負担を減らす政策であったので、4 国家として広範なサービスを国民に提供しようとする「大きな政府」の政策とは対照的であった。

政治の面での「小さな政府」への方向性は、かつてのB 夜警国家の方向性に向くことを意味するが、現代の先進国が夜警国家に戻り得ることは不可能である。その意味では、小泉前首相の 1 改革も日本が 4 国家であることが前提ではあったが、その範囲内である程度まで政府 2 の無駄を省こうという方向性を示した。そして、その手法も独特であった。C 第2次世界大戦後の日本政治において、自由民主党では通例金員一致による決定がなされてきたが、小泉前首相はこの慣習を破り、強いリーダーシップを発揮し、自らが推進する法案を D 内閣提出法案として国会に提出した。その典型的な例が、2005年の郵政民営化法案である。

経済の面ではどうであったであろうか。1990年代から2000年代初頭にかけての日本で、「小さな政府」をめざす政策が打ち出されたことにはどのような背景があったのであろうか。1991年にはじまる景気後退により、日本経済は「失われた10年」といわれた不況に陥ることになった。不況からの脱却を図るためには、従来の経済理論に従えば「大きな政府」を容認した適切な総需要管理政策が求められる。事実、日本でも幾度も E 財政出動が行われて、国債残高は膨張し続けた。しかしその後も消費税率の引上げ、不良債権問題に起因する銀行危機等により、F 不況は長引いた。そのため財政 2 は再び拡大したが、これによる景気回復も進まなかった。そこで、小泉内閣は不良債権処理を進めると同時に、財政出動に対しては一定の枠を設定したほか、G 各種の 1 改革政策の実施をつうじて「小さな政府」の実現をめざした。

問1 文中の 1 ~ 4 の空欄に最も適合する語または語句を下の語句群の中から選び、その記号を解答欄に記入せよ。

- | | | | |
|--------|------|------|------|
| ア 中央集権 | イ 支出 | ウ 官邸 | エ 政治 |
| オ 選挙制度 | カ 労働 | キ 内閣 | ク 福祉 |
| ケ 立憲君主 | コ 収入 | サ 構造 | シ 年金 |
| ス 地方分権 | セ 司法 | ソ 税 | タ 機構 |

問2 下線部分Aに関連して、「小さな政府」の意味として、最も適合するものを下の説明の中から1つ選び、その記号を解答欄に記入せよ。

- ア 国内総生産(GDP)や人口の面で規模が小さい国の政府のこと。

- イ 中央政府に対するものとしての地方自治体の政府のこと。
- ウ 公共サービス部門を縮小し、民間の活動範囲を相対的に大きくする政府のこと。
- エ 軍事支出を最小限に抑え、協調外交路線によって平和をめざす政府のこと。

問3 下線部分Bに関連して、国家像は歴史上複数存在してきた。国家像の記述として正しいものには○、誤っているものには×を解答欄に記入せよ。

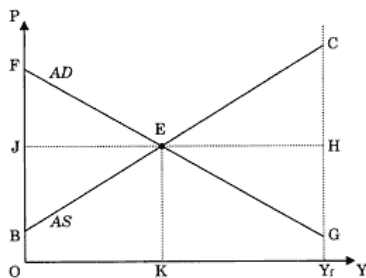
- ア 軍事国家とは、一般には軍事費の割合がGDPの20%を超える国家をさす。
- イ 夜警国家とは、領土と国民の生命・財産を守る最低限の活動を行う国家をさす。
- ウ 積極国家とは、政府が国民を監視し、積極的に国民生活を管理する国家をさす。

問4 下線部分Cに関連して、第2次世界大戦後の日本政治の特徴に関する次の記述のうち、誤っているものを1つ選び、その記号を解答欄に記入せよ。

- ア スウェーデンやイタリアの1980年代の1党優位政党制と同様に、日本では自由民主党が他党に対して圧倒的に有利な勢力を保った政党制が長期にわたり存在した。
- イ 自由民主党と野党第1党の日本社会党の国会における議席比が2対1だったために、日本の政党制は「 $1\frac{1}{2}$ 政党制」と呼ばれた時期があった。
- ウ 日本は高度成長を遂げたために所得格差が大きくなったが、経済大国の地位を維持するために、高度成長期とその直後には社会保障制度を整備しなかった。
- エ 憲法改正かつ日米安保体制保持を唱える自由民主党と、憲法擁護かつ日米安保条約破棄を唱える革新政党（日本社会党と日本共産党）の対立構造が長期間続いた。

問5 下線部分Dに関連して、「内閣提出法案」は内閣が閣議で審議して了承した上で国会に提出する法案をさす。これとは異なるプロセスを経て、国会に提出される法案を何と呼ぶか。最も一般的に用いられている名称を解答欄に記入せよ。

問6 次の図を見て、下線部分Eに関連する下記の文章(i)、および下線部分Fに関連する下記の文章(ii)中の(1)～(6)には最も適合する語を、(a)および(b)には最も適合する図中の記号を解答欄に記入せよ。また(ア)および(イ)には以下の語句群の中から最も適合する語を選び、その記号を解答欄に記入せよ。



(注) この図中のADとASは、それぞれある経済の総需要(AD)曲線と総供給(AS)曲線を表している。ただし横軸はY(実質国民所得)、縦軸はP(一般物価水準)を測り、特にYrはこの経済の利用可能なすべての資源が使用された場合の完全雇用国民所得水準を表している。短期的にこの経済の均衡はE点で達成されている。

- (i) 不況対策として政府が財政政策を発動すると、AD曲線は(1)方向にシフトし、適切に管理されれば(a)点の達成が可能である。このときPは(2)している。
- (ii) 実質国民所得水準がYrに達していないため、生産要素の価格が(3)し、その(ア)が増加し、AS曲線は(4)方向にシフトし、(b)点の達成が可能である。このときPは(5)している。その結果、民間企業は将来を悲観視して設備投資等を手控え、AD曲線が(6)方向にシフトすることがある。AD曲線のシフトとAS曲線のシフトが互いに打ち消し合うような状況もありうるが、そのような過程が継続することを(イ)という。

語句群

- ① デットデフレーション ② 雇用量 ③ 固定費用 ④ 管理価格
- ⑤ デフレギャップ ⑥ デフレスパイラル ⑦ トレンドインフレ ⑧ 貨幣供給量

問7 下線部分Gに関連して、小泉内閣は「小さな政府」実現のために各種の改革を実施した。「税金で資金を調達し、無料で公的サービスを提供する」というこれまでの方式に代わる改革案としては、どのような案が考えられるか。

- 下の語句群の中から最も適合する語句を3つ選び、その記号を解答欄に記入せよ。
- ア 累進化 イ 長期安定化 ウ 民営化 エ 内部化 オ 差別化
 - カ 有料化 キ 分断化 ク 民間委託化 ケ 中立化 コ 系列化
 - サ 不胎化 シ 平準化

No. 1 『政治思想』

王権神授説	●王権は神から授けられたもの ●絶対王政を正当化		
	ボシュエ	仏	ルイ14世の絶対主義を正当化
自然法	●自然法とは人間が生まれながらにして与えられた永久不変の法であり、他の法に優越する。		
	グロティウス	蘭	国際法の父『海洋自由論』『戦争と平和の法』
社会契約説	●人民の契約によって、人間の自然な状態から社会・国家が成立		
	●王権神授説を非難する市民階級の政治思想となる		
	ホッブズ	英	『リヴァイアサン』 絶対君主を擁護
	ロック	英	『市民政府二論』 名誉革命を絶対化
啓蒙思想	●理性を重要視し、全ての伝統的偏見・慣習・不合理な社会制度を打破しようとした思想		
	モンテスキュー	仏	三権分立を唱える 『法の精神』
	ヴォルテール	仏	『哲学書簡』 啓蒙専制君主と親交
	ルソー	仏	人民主権を主張『社会契約論』『エミール』

1 人権の歴史

a) 人権思想の歩み(社会契約説)

① _____ (英)

「_____」・・・抵抗権・権力分立

② _____ (仏)

「_____」・・・_____

③ _____ (仏)

「_____」・・・_____主権・直接民主制

b) 人権の確立

①英;「_____ (大憲章)」(1215)
→ _____ 革命・ _____ 革命 → 「_____」(1689)

②米;「_____ 宣言」(1776) ← 独立戦争
… _____ 権 ← ロックの影響

③仏;「_____ 宣言」 ← フランス革命
… _____ 主権

④独;「_____ 憲法」… 社会権の登場

c) 法

人の支配から「_____ の支配」 (eg; 法によって政治・裁判…)

No. 2 『大日本帝国憲法』

【明治政府が憲法の制定を急いだ理由】

- ① 治外法権や関税自主権といった不平等条約を改正するため。
- ② 自由民権運動の高まりがある。

【公布】1889年(明治22年)

【特色】

◎ _____ 主権

- …「大日本帝国ハ万世一系ノ天皇之レヲ統治ス」(第1条)
- …「天皇ハ神聖ニシテ侵スヘカラス」(第3条)

★ _____ 憲法

…憲法は天皇が制定し国民に与えたという形。

・司法・行政・司法の三権が、天皇に集中。

…天皇を国の元首、統治権の _____ 者としての地位に置いた

イ) 帝国議会は _____ 機関

…各大臣は天皇を助ける存在とされた。

⇔天皇が議会と相談せずに自由に行使しうる権限(天皇大権)

・公選されない _____ 院を置き、衆議院とほぼ同等の権限。

・明治政府は議会を無視(超然主義)。

→大正デモクラシーが出現した→しかし、昭和初期には軍部が台頭

ロ)天皇の行為に国務大臣の_____ (第4章)。

・内閣総理大臣は、国務大臣の首班ではあるものの対等な地位。

ハ)_____の人権は「法律ニ定メタル場合」「法律ノ範囲内」
(_____)

・本来、憲法とは国家権力を制限し、国民の人権を国家権力から守るべきものである。→_____主義の弊害

・日本国憲法では、これらの権利を永久不可侵の「基本的人権」と構成し、基本的人権の制約を「_____」に求める。

二)天皇の_____権を独立させ、陸海軍は議会に対し一切責任を負わない→_____の欠如

No. 3 『日本国憲法と基本的人権①』

0 日本国憲法

…憲法とは法律の基礎となる国家の決まり。現憲法。公布;1946年11月3日・施行;1947年5月3日。戦後60年余り一度も変えられておらず、現在、改正の動きが強い。

1 国民の三大義務

… _____、 _____、 _____ の義務

2 _____人権

… _____に侵すことのできない、生まれながらにして持つ権利

a) _____権

…国民は、人種・信条・性別・社会的身分又は門地により、政治的、経済的又は社会関係において、差別されない。
(憲法 14 条)

① _____の平等

→在日韓国朝鮮人問題、アイヌ差別問題
(→97 アイヌ文化振興法)

② _____の平等

→女性差別問題(→ _____法)

③参政権の平等

b) _____ 権

←「_____」により規制。

① _____ の自由

…不当な拘束・迫害を受けず、身体活動を不当に圧迫されない。

(例)不当に逮捕されない。奴隷にされないなど。

② _____ の自由

…心の中で_____ こと及びそれを外部に_____ する自由。

→ _____ 及び良心の自由、_____ の自由、集会・結社

・ _____ の自由、_____ の自由

③ _____ 活動の自由

… _____ 選択の自由・ _____ 権など

c) _____ 権

…人間らしい生活を国に求める権利。 _____ 憲法で世界で始めて規定。

① _____ 権

→「健康で文化的な最低限度の生活」を営む権利(憲法 25 条)

② _____ を受ける権利

→義務教育

③勤労の権利

→労働 _____ 権(1. _____ 権・2. _____ 権・3. _____ 権)

→労働 _____ 法

(1. _____ 法・2.労働組合法・3.労働関係調整法)

No. 4 『日本国憲法と基本的人権②』

(日本国憲法における人権)

1 基本的人権を守るための権利

a) _____ 権 ← 国民主権
… _____ 権・ _____ 権・国民投票・国民審査・住民投票・
請願権

b) _____ 権

① _____ 請求権 … _____ を受ける権利

② 国家賠償請求権 … 公務員の不法行為によって被害を受けた
場合

③ 刑事補償請求権 … 無罪なのに捕まった！

2 新しい人権

a) _____ 権利… 国家情報の公表を求める権利。
→99 _____ 法

b) _____ の権利… 私生活をみだりに公開されない権利。
→88 _____ 法

c) _____ 権… よい環境を受ける権利。
→93 _____ 法

③ 国際社会と人権

- a) _____宣言(1948) ←国際連合
…「人類社会のすべての構成員の固有の尊厳と、平等で譲ることのできない権利とを承認することは、世界における自由、正義及び平和の基礎である。」
←世界の人権保障の目標ないし基準
※拘束力なし
- b) _____規約(1966) ←国際連合
…A規約及びB規約から成る。
※拘束力あり(条約)
- c) _____条約(1965) ←国際連合
…人種、門地又は民族、種族により差別はしてはならない。
←アパルトヘイト政策
- d) _____条約(1979) ←国際連合
…女子に対する差別をいかなる分野において禁止。
→日本; _____法
- e) 子供の権利条約(1989)
…18歳以下の子供において
- f) 非政府組織(_____)の取り組み
cf; _____
…思想・信条により拘束されている人々の釈放や死刑の廃止を訴える。
- g) トレンディーな話題
…遺伝子操作技術・クローン技術・臓器移植・脳死問題など

確認問題（基本的人権） (Aiichiro Kohno)

① 日本国憲法に記載されている国民の三大義務を答えよ。

② 日本国憲法に記載されている権利について

1. 永久に侵すことのできない生まれながらにして持つ権利であり、平等権・自由権・社会権で構成されるものは何か答えなさい。

2. 平等権を構成する3つの枠組みを答えなさい。

3. 自由権は、なんという概念によって制限されるか答えなさい。

4. 自由権を構成する3つの枠組みを答えなさい。

5. 社会権を世界で始めて記載したとされる憲法はなんという憲法か答えなさい。

6. 社会権を構成する3つの枠組みを答えなさい。

<解答欄>

① _____、_____、_____

②

1. _____

2. _____、_____、_____

3. _____

4. _____、_____、_____

5. _____ 憲法

6. _____、_____、_____

No. 5 『地方自治』

0 地方自治

…地方の実情にあった政治を、住民の手により住民のために行う。

1 地方自治の仕組み

①地方自治の本旨→地方自治の制定(1947)

・ _____自治…地方公共団体は国家の干渉を受けず、地方行政を自主的に行う。

・ _____自治…地域住民の直接参加による、住民の意思に基づいた地方自治

→ _____「地方自治は民主政治の最良の学校」

②地方公共団体(地方 _____)の仕組み

○地方議会(市議会など)

…一院制、 _____ の制定・改廃、 _____ の議決、首長の _____ 権

○ _____ …行政事務全般の指揮・監督、条例の執行、議会の _____ 権

→執行補助機関…都道府県の副知事・出納長、市町村の助役・収入役

○ _____ …教育委員会、選挙管理委員会、人事委員会

③住民の_____権←_____制による住民参加の実現

- ・イニシアティブ(条例の制定や改廃)
- ・議会の解散
- ・_____ (議員・首長などの解職)

2. 地方自治の現状と問題点

①仕事の変化

←地方分権一括法の成立(1999)

・・・国と地方が、”主従”から”対等”へ

○_____・・・地方公共団体が独自に行う事務

○_____

・・・本来は国の役割であるが、法令によって地方公共団体に委任されている事務

②財政

・自主財源・・・地方税

・依存財源・・・_____・_____・_____

・・・補助金(国庫支出金)や地方債発行許可を通じた国の統制が問題

→三位一体の改革(国から地方への財源委譲)

No. 6 『政党政治と選挙』

1 政党政治

・政党・・・共通の主義・主張を持つ人々が、政策の実現を目指して結成した政治団体。

※ 議会進出し、政権の獲得を目指す。

cf;

○ _____ 党

・・・政権を担当している政党(連立政権の場合は複数ある)

○ _____ 党

・・・国会内に存在する政党の中で、上以外の政党。

・ _____
・・・特定の利益の実現を目指し、政府や議員、関係官庁に働きかける。

※議会進出するわけではない。

・その他に、市民運動や住民運動など

◎ 日本の政党政治

1955年 自由民主党の結成と社会党の再統一

・・・政権は以後、_____党が握る。『55年体制』

1993年 自民党政権崩壊(55年体制崩壊)。

→細川護熙政権成立。

現在、_____党と_____党が_____党であり、安倍晋三が連立政権を構成。

対して、_____党、_____党、_____党などが_____党である。

② 選挙制度

1. 選挙の仕組み

① 選挙の原則

… _____選挙、_____選挙、_____選挙、_____選挙

② 選挙権の拡大

… _____選挙から_____選挙へ

③ 選挙区制

- ・ _____制(中選挙区制)・・・1選挙区から複数人選出。
→死票が少なく、小政党も議席を確保。
- ・ _____制・・・1選挙区から1人選出。
→大政党が出現し政局安定、選挙費用の節約。死票が多い。小政党を排除。
- ・ _____制・・・各党の得票数に比例して議席を配分
→国民の意思を反映。小党分立になり易く、政局が不安定になりがち。

2. 日本の選挙制度

① 衆議院(480)

… _____ 制(94年まで中選挙区制)

- ・ 小選挙区(300)
- ・ 比例代表(180)…全国 11 のブロック。小選挙区と比例代表の重複立候補を認める。

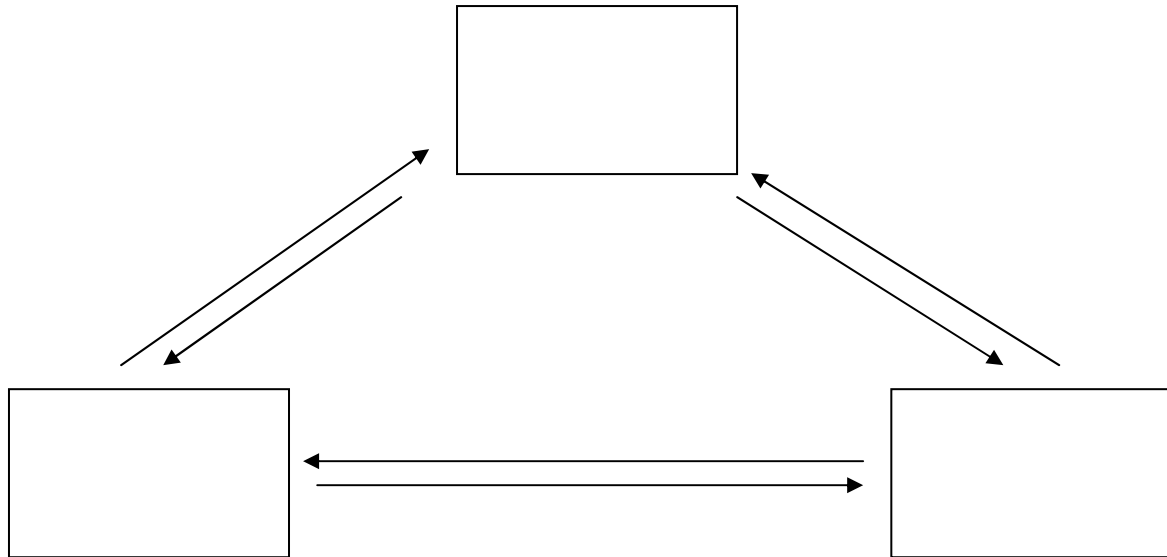
② 参議院(242)

- ・ 選挙区(146)…各都道府県ごとの選挙。(都道府県によって定数が異なる)
- ・ 比例代表(96)…全国1ブロック。_____名簿を利用。

3. 日本の選挙制度の課題

- ・ 議員定数不均衡による『_____の価値』の不平等
= _____の格差
- ・ _____率の低下…政治的無関心の広がり。
- ・ 増大する選挙費用を抑制。
→ _____法・ _____法の改正。

No. 7 『国会(立法府)』



1 国会の仕組み

① 国会の地位

a) 国権の_____ ← 主権を持つ国民を代表している。

b) 唯一の_____

← 国会が_____ 権を独占(例外; 政令・条例など)

← 議会制民主主義の中心的役割

② 国会の組織

(1) _____ 制(両院制)

- ・ _____ 院・・・_____ があり、国民の意思を国政に反映
- ・ _____ 院・・・上の行き過ぎを抑制。安定した慎重な審議。

衆議院		参議院
_____人	定数	_____人
_____年 (解散の場合は任期中でもその資格を失う)	任期	_____年 (_____年ごとに半数改選)
_____歳以上	被選挙権	_____歳以上
比例代表; _____人 [全国 11 ブロック] 小選挙区; _____人 [小選挙区比例代表並立制]	選挙区	比例代表; 96 人 [非拘束式名簿] 選挙区: 146 人 [各都道府県ごとに定数]
_____	解散	_____
_____	緊急集会	_____

☆ 現在、参議院の存在意義が問われている。
→「一院制」の主張も

(2) _____制度

・・・能率良い審議をするため。いくつもの専門委員会が存在し、各議員が分かれて、専門的な審議を行う。

種類; _____委員会・_____委員会。

☆ 法案審議の流れ

・ _____会の意見を参考にし、
_____会で審議して、_____に提出。

③ 国会の種類

種類	会期	召集	主な課題
_____国会	_____日	年に1回1月中	予算審議 など
_____国会	その都度 決める	内閣または 衆参いずれか の4分の1以上 の要求	国内外 の緊急議事
_____国会	その都度 決める	衆院総選挙 から _____日以内	内閣総理 大臣の指名
参議院の 緊急集会	不定	衆院解散中に 必要がある 場合	緊急事態 への対応

④ 議員の特権

・・・歳費(給料)を受ける権利、
_____特権、_____特権

2 国会の働き

① 主な国会・各議院の権限

- ・ 法律の制定（立法）
- ・ _____案の審議、条約承認、_____大臣の指名、
_____案決議
- ・ _____裁判所の設置
- ・ 国政調査権

② 衆議院の優越

- ・ 法律案の審議・・・両院の議決が異なった場合、または参議院が60日以内に議決をしない場合→(両院協議会)→衆院が出席議員の3分の2以上の多数で再可決→成立
- ・ _____の指名
- ・ _____審議において(先議権など)
- ・ 条約の承認

No. 8 『内閣・政府(行政府)』

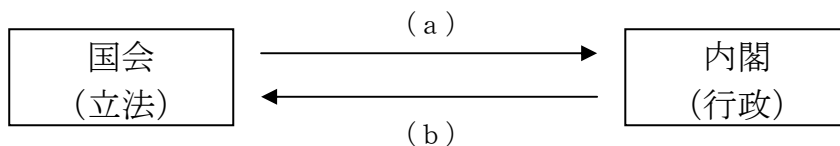
1 内閣の仕組み

① _____ 制

・・・内閣は国民の代表である国会の信任に基づいて成立し、
国会に対し連帯して責任を負う。

→立法(国会)と行政(内閣)の結ぶつきにより、間接的に行政活動
の中に国民の意思を反映することが出来る。

★国会と内閣の相互抑制機能



(a) _____ 案決議、_____ 大臣の指名

(b) 衆議院の _____ など

○国会における多数党が、内閣を組織し、_____ 党となって、
事実上行政権を掌握

→ _____ 党の暴走の暴走を防ぐ、_____ 党の役割が重要。

② 内閣の組織

- ・ _____大臣
- … _____員の中から国会の指名により天皇が任命

- ・ _____大臣
- … _____大臣が任免。過半数は国会議員。

2 内閣の働き

① 内閣の権限

- … _____(内閣の全ての大臣による会議)の決定に基づく

- ・ 一般行政事務、法律の執行、外交関係の処理、
条約の締結、予算の作成、_____の制定、
臨時国会の召集 など

- ・ _____の国事行為に対する助言

- ・ _____長官の指名やその他_____官の任命

② 内閣総理大臣の職務と権限

- ・ 国務大臣の_____権・罷免権(やめさせる権利)

- ・ 閣議の主催。(閣議では全会一致で物事を決定)

- ・ 行政各部への指揮・監督権

- ・ 内閣を代表して議案を提出。構成状況を国会に報告。

③ 衆議院の解散と内閣の成立

a)69条解散について

☆ 憲法69条

…国会(本会議)で、_____案が可決されるか_____案が否決されると、内閣総理大臣は次のいずれかを行わなくてはならない。

1. 内閣_____ (内閣の全ての大臣が一度に辞めること)
→国会で_____大臣の指名→国務大臣の任命

2. _____院の解散(69条解散)

b)7条解散

…内閣の助言に基づく、_____の国事行為としての解散。内閣不信任案可決がなくとも解散できる。(7条解散)

cf;現実問題として、7条解散の方が多い。

●解散すれば、どちらにしても、

→その後、_____院議員の_____選挙が行われ、

→_____国会の召集

→内閣の総辞職と_____大臣の指名

→国務大臣の任命
という手順を踏むこととなる。

No. 9 『裁判所(司法府)』

1 司法権の独立

① 裁判所の独立 (from 内閣 or 国会)

…司法権はすべて最高裁判所および下級裁判所に属する

→ _____ 裁判所の設置禁止、政治的圧力を一切排除

② _____ 官の独立

… _____ に従い独立して職権を行使。
_____ や _____ にのみ拘束される

③ 裁判官の身分保障

…裁判官の罷免を限定

→ _____ の故障、_____ 裁判(国会内に設置)、
_____ 裁判所の裁判官に対する _____ 審査
(総選挙の際に実施)

④ _____ 権

…具体的事件に際し、法律その他の国家行為が憲法に違反していないかを判断する権限。すべての裁判所がもつ

2 裁判制度

① 裁判所の種類

a) _____ 裁判所

- ・最高裁判所長官と判事14名で構成、別名、_____ 裁判所
- ・「憲法の_____」
- ・裁判所規則制定権を持ち、_____ 裁判所裁判官の指名を行う

b) _____ 裁判所

- ・_____ 裁判所(8ヶ所)
- ・_____ 裁判所、_____ 裁判所(都道府県所在地とほぼ同じ)
- ・_____ 裁判所(400ヶ所)

② 裁判の仕組み

a) _____ 裁判

- ・・・ _____ 官(国家)が _____ となり被疑者を起訴。
審議を行い刑罰を確定。
- ← _____ 主義
- ・・・犯罪に対する刑罰はあらかじめ法律により規定

b) _____ 裁判

- ・・・個人、団体間の財産や身分に関する権利・義務について、訴訟を起こした _____ と訴えられた _____、当事者双方が法廷で争う。

◎ _____ 制

・・・判決に不服な場合、上級裁判所に _____ ・ _____ し、3回まで
裁判が可能

◎ _____

・・・刑事裁判により有罪確定後も判断材料に疑いが生じれば裁判
をやり直す

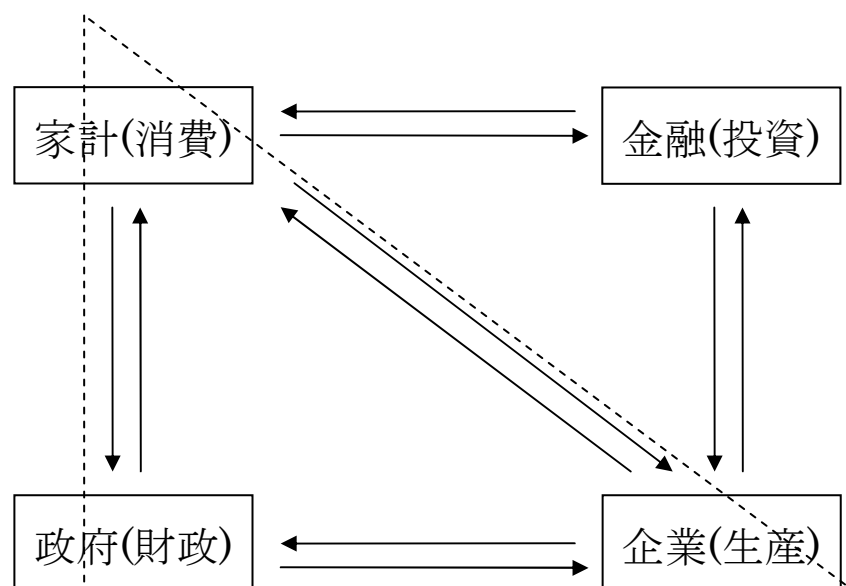
→ _____ 罪の防止

cf; 裁判は公開が原則である

No. 10 『経済定義と家計・流通』

1 経済(economy)

・・・人間の共同生活の基礎をなす財・サービスの生産・分配・消費の行為・過程、並びにそれを通じて形成される人と人との社会関係の総体。転じて、金銭のやりくり。



◎上の4つのうち、家計・政府・企業が代表的な経済主体。

◎実際の経済活動では、上の他に、多くの主体・関係が存在する。

2 経済思想

古典派	アダム＝スミス	英	「諸国民の富」(「国富論」)
	リカード	英	「経済学および課税の原理」
	マルサス	英	「人口論」
	リスト	独	ドイツ関税同盟(保護主義貿易)を主張
社会主義	マルクス	独	「共産党宣言」「資本論」 第1インターナショナル(科学的社会主義)
	エンゲルス	独	「資本論」(マルクスと共著)(科学的社会主義)
ケインジアン	ケインズ	米	「雇用・利子および貨幣の一般理論」

3 家計

…一家の生活にかかわる収入と支出。企業に_____力・資本・土地という生産要素を供給し、_____や配当を得て_____や_____を行う。

a) 収入

- ①_____所得…労働者として働いて得る収入。
- ②_____所得…自営業者として働いて得る収入。
- ③財産所得…貸家の家賃や利子によって得る収入。

b) 支出

① _____ 支出・・・日常生活に必要な支出。

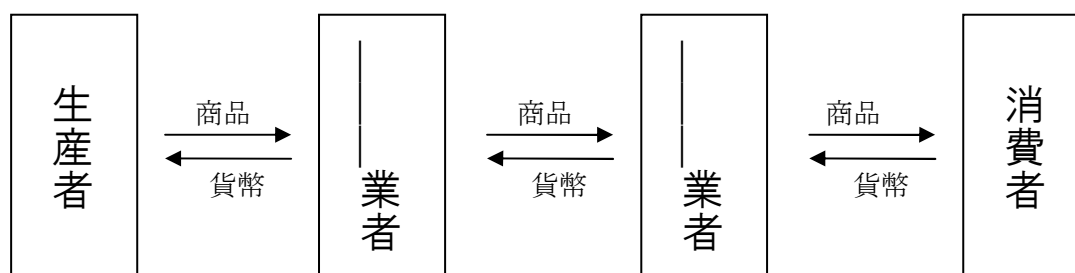
② 非消費支出・・・国・地方に収める税金など

③ _____・・・貯金や保険など。このお金は _____ 市場に回される。

cf; _____ 係数・・・消費の中の食費の割合。所得が高いほど低くなる。

4 流通

・・・財貨が移動すること。あるいはその流れ。



☆ 貨幣は上の交換の仲立ちをしている。
但し、だんだんとその金額は高くなる。

← 業者の利益や流通費がかかる。

No. 11 『価格・消費・金融』

1 価格

☆消費者に販売される価格には、生産者・卸売・小売たちの利潤や
運送費などの経費が含まれる。

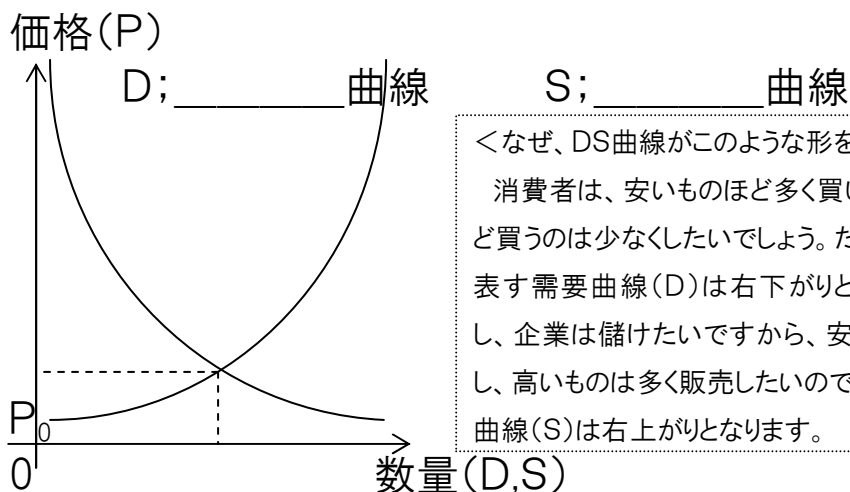
a) 需要と供給

_____ (Demand)

…市場で商品を消費者が必要としていること。
または、その量自体。

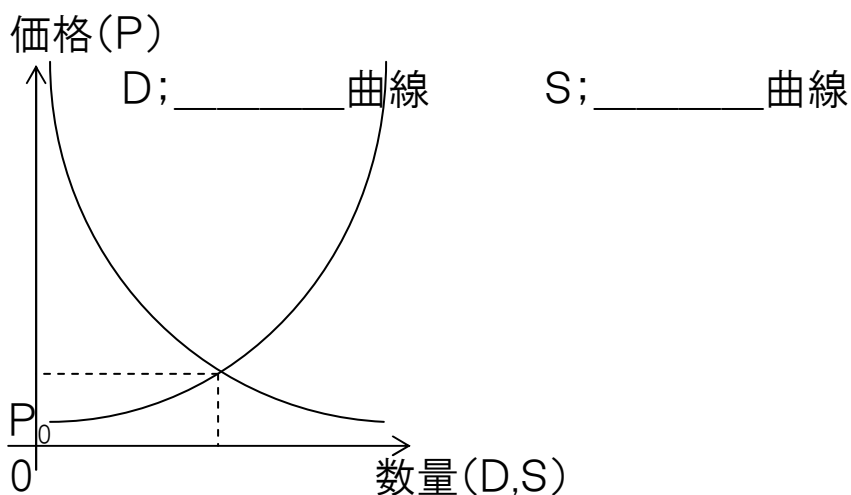
_____ (Supply)

…市場で商品を販売企業が販売していること。
または、その量自体。



<なぜ、DS曲線がこのような形をとるのか？>

消費者は、安いものほど多く買いたがり、高いものほど買うのは少なくしたいでしょう。だから、その必要量を表す需要曲線(D)は右下がりとなります。それに対し、企業は儲けたいですから、安いものは少なく販売し、高いものは多く販売したいので、その量を表す供給曲線(S)は右上がりとなります。



・ $P > P_0$ の時
 $D < S$ となり、品余りが発生。価格(P)は下落。・・・①

・ $P < P_0$ の時
 $D > S$ となり、品不足が発生。価格(P)は上昇。・・・②

①・②より、D曲線とS曲線が一致するところ($P = P_0$)に、消費量(数量)・価格が決まる。

→この価格(P_0)を_____価格(市場価格)という。

★応用 上の表を使って、さまざまな場合を考える。

需要・供給において、

増加・・・曲線を数量軸の正の方向に移動。

減少・・・曲線を数量軸の負の方向に移動。

その時の交点の価格座標に価格が移動する。

b) _____ 価格

・・・市場を支配する少ない企業(寡占企業)
が一方的に決める価格。

c) 公共料金

・・・国や地方自治体の認可によって料金が決定される。

2 物価(物の値段)

a) 物価指数

・・・ある年の物価を100として、各年の物価を表したもの。

_____ 物価指数と
_____ 物価指数(卸売物価指数)がある。

b) 物価の変化

1. _____ ・・・物価が上昇傾向にあること。

(景気が悪い状態と同時に進むものを _____
_____ という)

このとき、実質的な価値として、預けているお金の価値は _____
し、貸しているお金の価値は _____ する。

eg; 終戦直後や高度成長期の日本。第一次世界大戦後のドイツ。

2. _____ …物価が下降傾向にあること。

(景気が悪い状態と同時に進むものを _____
_____ という)

このとき、実質的な価値として、預けているお金の価値は _____
_____ し、貸しているお金の価値は _____ する。

eg; つい最近の日本。

③ 消費生活

a) 消費者主権

…市場経済の活動を方向づける主体は、生産者(企業)ではなく、
消費者にあるという考え方。

eg; 94、_____ 法(製造物責任法)

b) _____ 制度

…訪問販売や通信販売などにおいて、一定の期間内であれば違
約金なしで契約解除ができる制度。

c) 消費者の権利

…62、アメリカ合衆国のジョン=F=ケネディー大統領による。
→「_____ である権利」、「_____ 権利」、「_____ 権利」、「_____
を反映させる権利」

4 金融

a) 金融

・・・銀行⇔個人、企業の間で、金銭の預金や貸借が行われる。

b) _____銀行

・・・銀行の銀行。市中銀行(普通の銀行)が日本銀行に預金したり借ったりする。日本の通貨である日本銀行券を発行。_____を調節して金融政策を行う。

cf; _____

・・・市中銀行にお金を貸す際の金利。不景気では低く設定される。(現在は大変低い)、この金利の変化に、一般の銀行の金利も変化する。

c) 管理通貨制度

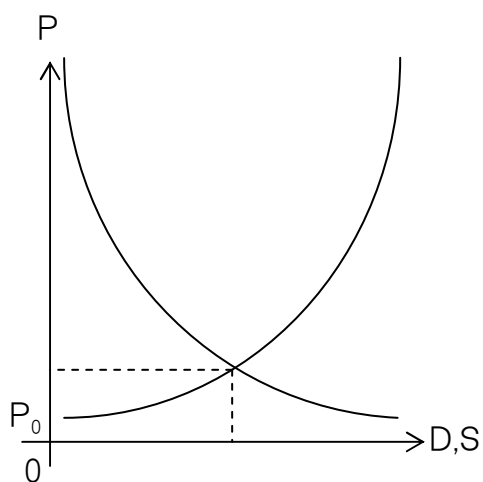
・・・政府が経済の状態によって通貨の流通量を調整。景気が過熱(良すぎる)したら通貨量を_____し、景気が低迷(悪い)したら通貨量を_____すように調節。

政治経済・現代社会 演習問題(価格) (Aiichiro Kohno)

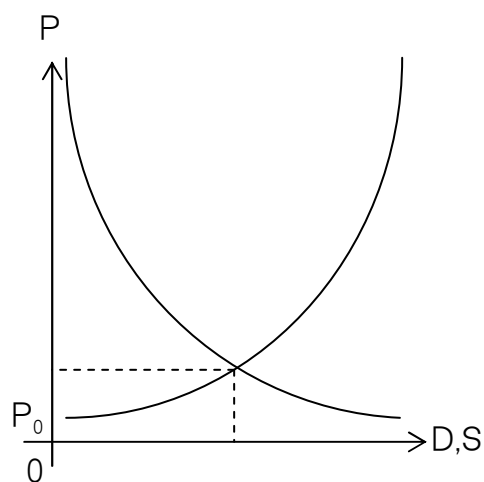
設問1

次の(1)～(4)の場合において、グラフの曲線のどちらが需要曲線(D_0 曲線)または供給曲線(S_0 曲線)かを示しつつ変化した曲線(D_1 曲線または S_1 曲線)を描き、その時の均衡価格 P_1 を縦軸上に示した上で、結果を述べなさい。

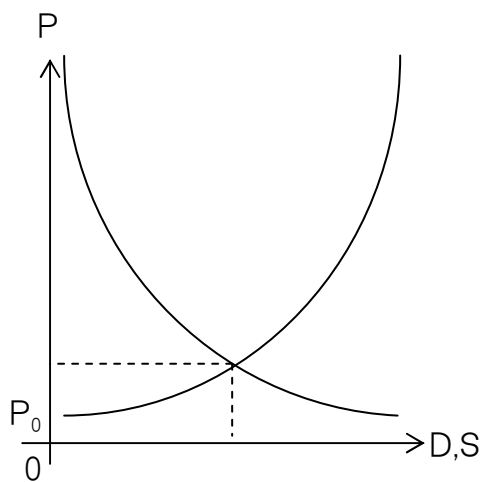
(1) 需要が増加した場合



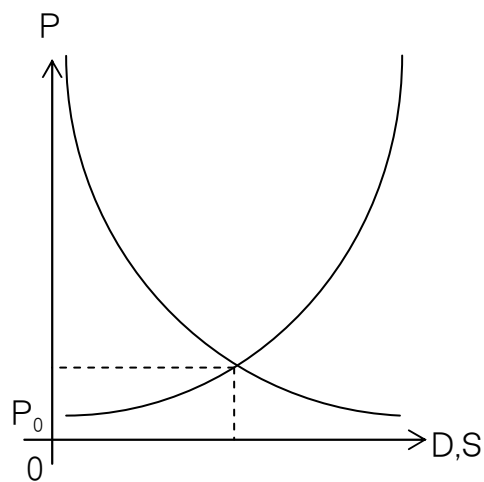
(2) 需要が減少した場合



(3) 供給が増加した場合



(4) 供給が減少した場合

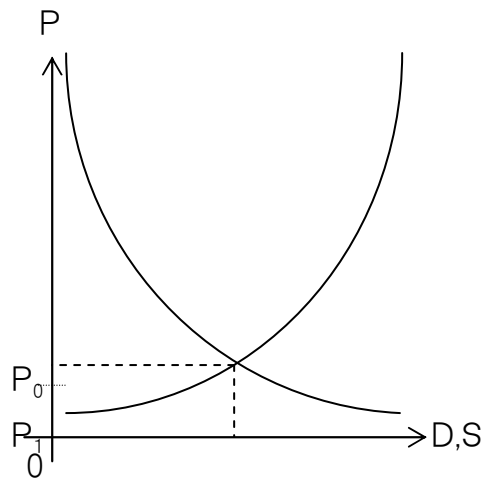
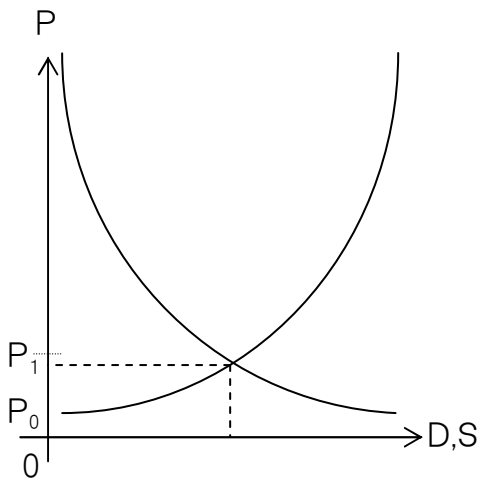


設問2

次の(1)・(2)の場合において、グラフの曲線のどちらが需要曲線(D曲線)または供給曲線(S曲線)かを示しつつ、需要量(D_1)と供給量(S_1)を横軸上に示した上で、結果を述べなさい。

(1) 価格が P_1 まで上昇した場合

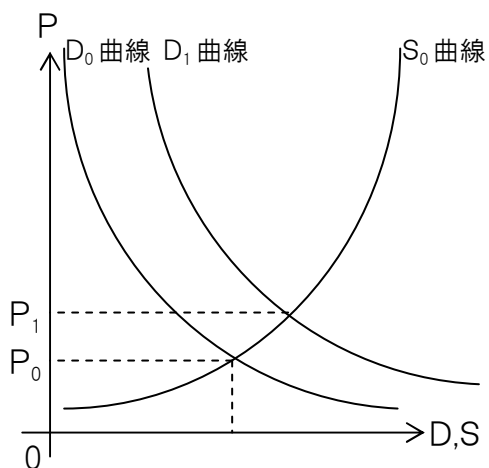
(2) 価格が P_1 まで下落した場合



政治経済・現代社会 演習問題(価格) 解答 (Aiichiro Kohno)

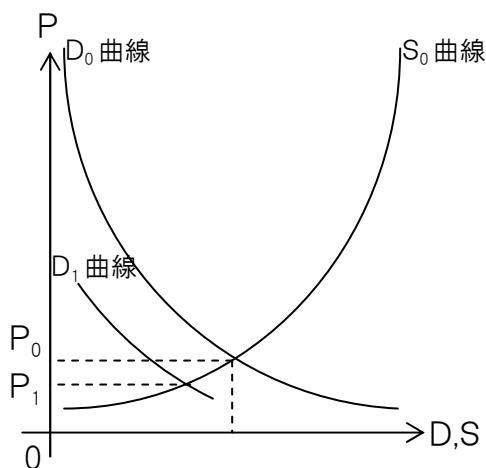
設問1

(1) 需要が増加した場合



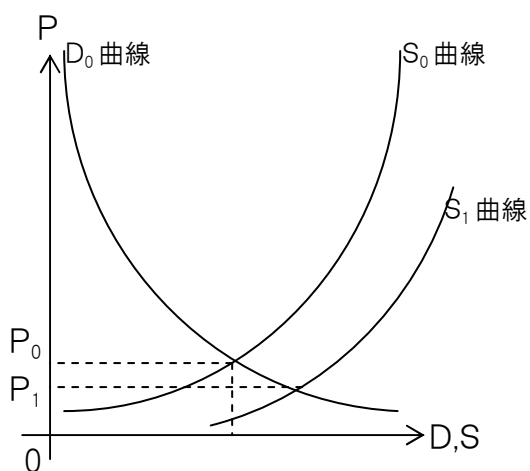
結果; 価格が下落する。

(2) 需要が減少した場合



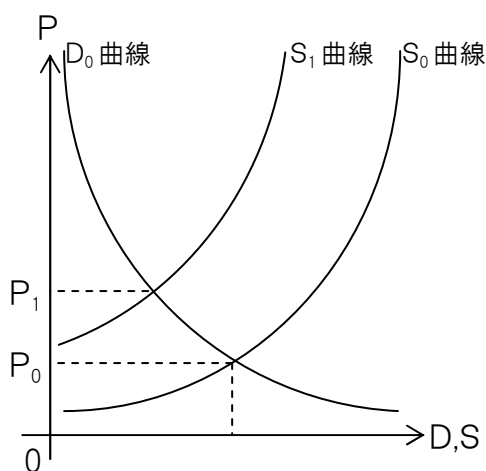
結果; 価格が上昇する。

(3) 供給が増加した場合



結果; 価格が上昇する。

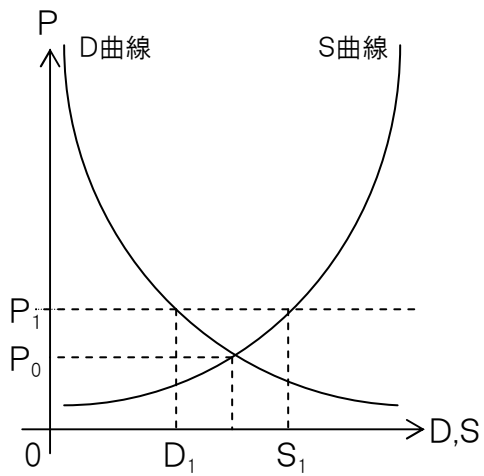
(4) 供給が減少した場合



結果; 価格が下落する。

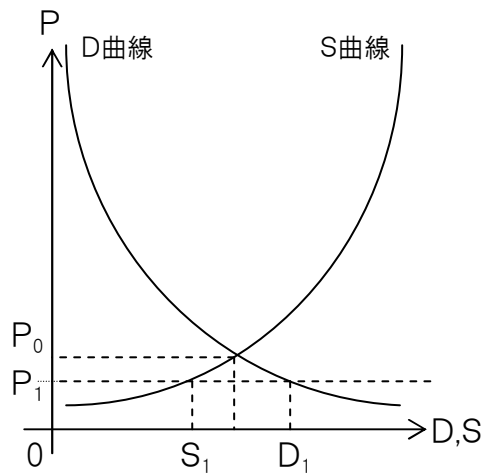
設問2

(1) 価格が P_1 まで上昇した場合



結果; 需要が増加し、供給が減少する。
(品不足の発生)

(2) 価格が P_1 まで下落した場合



結果; 供給が増加し、需要が減少する。
(品余りの発生)

No. 12 『企業(生産)』

0 企業

…経済の三大主体の一つ。家計から_____・_____・土地という生産要素の提供を受け、財・サービスを生産・販売して利潤を得る。

※土地と天然資源をまとめて「自然」と言い、自然・_____・_____の3つを合わせて、「生産の3要素」ということもある。

1 企業の仕組み

a) 資本の循環と再生産

…企業が資本を元に商品を生産・販売して資本を回収し、再び生産活動を行うこと。

① _____

…設備投資の拡大により生産(規模)が増えること

② 単純再生産

…生産が前回と同規模で行われること

③ 縮小再生産

…設備投資が前回の投資を下回り、生産が縮小すること

b) 企業の種類

① _____

…民間資本から成る。日本など資本主義国家では大部分が私企業であり、株式会社が多い

② 公私合同企業

…民間と公共両資本からなる eg; NHK、JT、JAL、日本銀行 etc…

③ _____

…公共資本から成る eg; 郵政公社、ガス・水道会社、日本道路公団 etc…

☆規模による分類

(イ) _____ 企業

(ロ) _____ 企業…生産性は低く、労働者の賃金も安いことが多い。

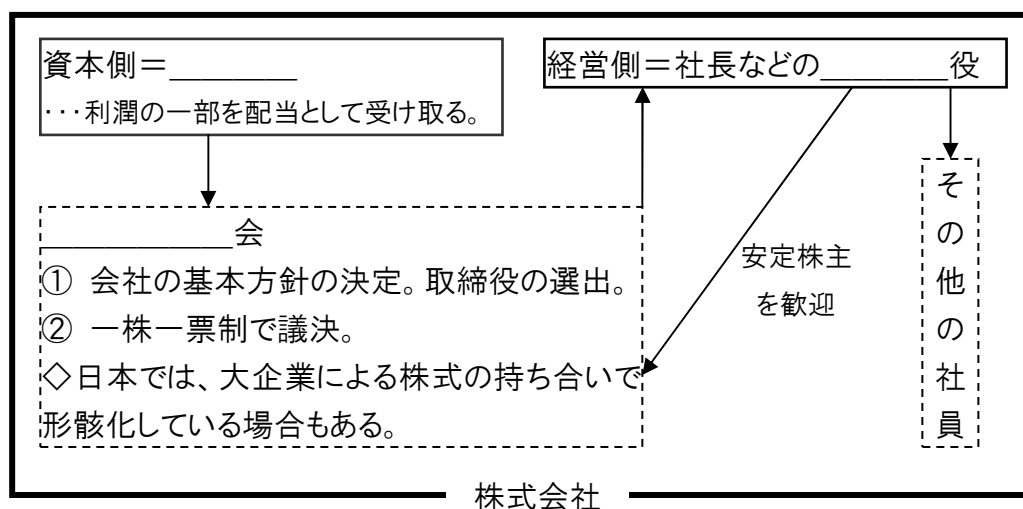
cf; _____ 企業

…高度の技術力を生かし、画期的な活動を行う中小企業

c) 株式会社

・・・株式(株)を発行して、それを証券市場で販売し、多くの資金を人々から集める。株式の売買価格(株価)は随時変動。

☆ 資本と経営の分離



d) 多国籍企業

・・・複数の国にまたがって活動 → 海外進出の進展 → 「産業の空洞化」

※円高・国内賃金上昇により、日本でもその傾向がひどい。

② 独占

a) 形態

…ある商種において、生産や市場を1つの企業が支配することを____、少数の企業が支配することを____と言う。

①____(企業連合)…生産量・販売地域・価格において協定を結ぶ

②トラスト…同一業種内で複数の企業が合併すること。

③コンツェルン…異業種間で複数の企業が合同している形態。いわゆる財閥。

b) 寡占あるいは独占が起きるとどうなるか？

→有力企業がプライス・リーダーとなって価格を設定する管理価格が形成

→価格の下方硬直性(下がりにくくなる=高い状態が持続)

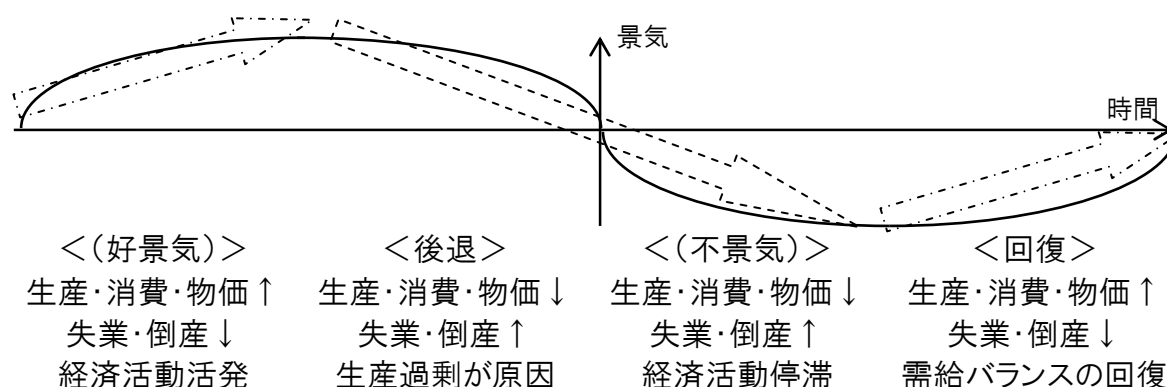
→広告・宣伝・サービスなど価格以外での競争が行われ、その費用が価格に反映

→物価が上昇し、消費者に不利益

…これを防ぐために、____法による規制と____委員会による監視が行われ、市場における____競争を促進

No. 13 『政府(財政)』

1 景気変動



2 財政

a) 財政

・・・国や地方自治体が行う経済活動。社会資本の整備、治安の維持、福祉の維持などがある。

戦前は_____費、戦後は_____費が中心となっている。
(但し、現在では国債償還費の割合が高まりつつある。)

1年ごとに予算を立て、これに従って運営する。

b) 予算と租税

① 予算

・・・毎年の支出(_____)と収入(_____)の内訳の予定をまとめたもの

※近年の日本の国家予算(一般会計)はだいたい80兆円規模だが
税収が40兆円台しかなく、足りない分のお金を_____を発行して
調達する。

② 租税

1. _____ 税

・・・税を負担する人とその税を納める人(納税者)が同一
eg; 所得税・法人税・相続税

2. _____ 税

・・・税を負担する人と納税者が異なる
eg; 消費税

☆ _____ 率

・・・直接税と間接税の比率

← 日米は直接税中心、欧州は間接税中心

③公債

…国や地方自治体が不足する資金を補うために発行

【国債の種類】

1. _____国債

…一般会計の歳入不足を補うために発行

2. 建設国債

…公共事業に当てる国債

☆近年の問題点—『財政の硬直化』

…国債発行が恒常化しその償還費の歳出に占める割合が高まり、本来必要な分野への拠出が出来なくなること。

c)財政政策

①_____

…_____課税制によって、高所得者から多くの税金を徴収し、社会保障を通じてその分を低所得者に再分配 → 所得格差を縮小する。

②資源配分…公共施設の供給など

③景気調節

1. 財政の自動安定化装置(_____)

…累進課税制度と社会保障制度により
自動的に景気を平均化する。

2. 補正的財政政策(_____)

<不景気の時>

公共事業などにより財政支出を_____し、_____税する。

←国債の大量発行

<景気過熱の時>

財政支出を_____し、_____税する。

cf; 日銀(一応、政府ではない)の金融政策

<不景気の時>

_____を下げ、通貨量(マネーサプライ)を_____す。

<景気過熱の時>

_____を上げ、通貨量を_____す。

d) _____

…郵便貯金・年金の預かり金を財源として、公共性の高い分野に
融資し回収する。別名、『第二の予算』。

e) ポリシー・ミックス

…金融政策と財政政策を一体的に運用し、経済の安定を図る。

No. 14 『労働と社会保障』

1 労働問題

a) 労働基本権と労働三法

① 労働基本権

1. 労働の権利(憲法)

2. 労働三権(憲法)

… _____ 権、 _____ 権、 _____ 権

② 労働三法

1. _____ 法…労働基準の最低条件を規定

2. _____ 法…労働三権について具体化

3. _____ 法…労働争議の予防・解決を記載

b) 女性の労働問題

1. _____ 法…雇用・昇進・待遇における男女差別を禁止

2. _____ 法…育児や介護によって就業が制約されないようするため

c) 最近の労働事情 ～日本型雇用慣行の崩壊～

1. バブル崩壊後の平成不況によって、中高年労働者のリストラが進行
… _____ 制の崩壊
2. 職能給や年棒制の導入
= _____ 型賃金の撤廃
3. その他
 - ① 時短(労働時間の時間短縮の動き)
 - ② 週休二日制の普及

② 社会保障

… 疾病や高齢、失業から国民を守り、公的に最低限度の生活を保障するもの

a) 日本の社会保障制度の体系

1. _____
… 疾病、高齢、失業、労災などに対する保険給付
2. _____ … 生活困窮者に対する生活費付与
3. _____
… 児童、乳児、障害者、高齢者に対する育成・援助
4. _____
… 国民健康の維持・促進、生活環境の向上

b) 社会保険

1. 医療保険・・・国民皆保険(国民全員が強制加入)

2. 年金保険・・・国民皆年金

①国民年金

②厚生年金

③共済年金

【問題】 高齢化の進展により、財源確保が問題となっている。

3. 介護保険・・・高齢社会に対応し、40歳以上の国民が加入

No. 15 『国際社会と環境問題』

1 国際社会

a) 国家主権

1. 国際社会は互いに独立・対等な立場の_____から構成される。

2. 国家を構成する三要素

①_____ …… 陸地

②_____ …… 上の海岸線から12海里までのところ。その先は_____。

③_____ …… 上2つの上空

※海岸線から200海里の_____の全てが②に含まれるわけではない。

b) 国際連合

【組織】

- ① _____
…全加盟国により構成する。以下に②・⑤などの組織を統括する。
- ② _____
…以下の③と④の国々によって構成し、国際平和と安全保障問題を検討する。
- ③ _____国
…アメリカ、イギリス、フランス、中国、ロシアの5カ国が担当し、安保理の議決に対し拒否権を有する。
- ④ _____国
…総会で選ばれた10カ国が担当し、任期は2年間である。
- ⑤ _____
…国際紛争問題などを解決する。

【安全保障機能について】

☆国際紛争の発生

→当事国に平和的解決の要請

→安保理による停戦勧告

1. 停戦合意→平和維持活動(_____)
2. 経済制裁→軍事制裁

c) 軍縮問題

1945～1960頃 世界的な軍備拡大と核兵器開発
(特に米ソ間で)

1962 キューバ危機 → 米ソ緊張緩和

→ 軍備管理と核兵器の制限

eg₁; 部分的核実験停止条約

eg₂; 核拡散防止条約(NPT)

eg₃; 戦略兵器制限交渉(SALT I・II)

1985 ソ連、ゴルバチョフ政権成立 → _____ が終結に向かう

→ 兵器削減と核兵器廃絶

eg₁; 中距離核戦力全廃(_____)条約

eg₂; _____ 条約(CTBT)

eg₃; 戦略兵器削減交渉(START I・II)

2 国際問題

a) 人口・食料問題

① 発展途上国

<人口動態>

爆発的に人口が_____することを_____という。

【原因】

死亡率の低下によって多産多死型から多産少死型への変化

<人口集中>

_____の人口が急増し、深刻な問題が発生している。

<食糧危機>

人口増加・内戦・干ばつなどにより_____が不足し、飢餓や栄養不足が拡大している。

② 先進国

_____化・_____化が進行

b) 資源・エネルギー問題

・・・1970年代の_____をきっかけに、先進国の間で資源の有限性が認識され、代替エネルギーの開発や_____への取り組みが行われる。

c) 地球環境問題

① 地球温暖化

・・・温室効果ガスの増加によって地球の温度が上昇する。

【原因】

工業化の進展→_____の大量消費
→_____の発生

【影響】 _____上昇による低地の水没、気候の変化

【対策】 温室効果ガスである_____の排出量を規制

1992 _____にて気候変動枠組み条約採択

1997 日本の_____で温暖化防止条約

② オゾン層破壊

…地球を取り巻いているオゾン層が破壊され地球上に降り注ぐ____
_____の量が増加

【原因】 _____の使用

【影響】 皮膚ガンや白内障の発症

【対策】 _____の使用を規制

1987 モントリオール議定書

③ 酸性雨

…大気中に排出された_____によって雨が酸性化
し降り注ぐ。

【原因】 工場や自動車からの排気ガス

【影響】 湖沼の酸性化による生態系破壊、_____破壊

【対策】 排煙装置の改良や排気ガス規制

④ 森林破壊

…発展途上国を中心とした熱帯林を中心とした森林面積の減少

【原因】 過度の_____農業や、輸出の為の大量伐採

【影響】 干ばつ・_____化、動植物の減少・絶滅

【対策】 発展途上国への援助

⑤ 砂漠化

…発展途上国における土地の_____化、塩性化による劣化

【原因】

気候変動、森林破壊、その他焼畑農業など過度の人間活動

【影響】 不毛の土地の拡大

【対策】 人口抑制、食料の安定供給、温暖化の防止

⑥ 野生動物の減少

【原因】 森林破壊、砂漠化、気候変動、乱獲など

【対策】 1973 _____条約

高校生・大学受験対策用テキスト
政治経済・現代社会(センター・基礎レベル)

平成17年9月 作成
平成19年8月 改訂
作成者 河野愛一郎

氏名